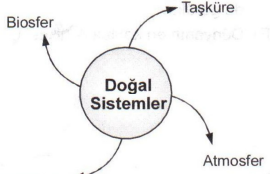


## Doğa ve İnsan

1. 
- Yukarıdaki şemada boş bırakılan yere aşağıdakilerden hangisi gelirse sistem doğru tamamlanmış olur?
- A) Litosfer B) Hava küre  
C) Canlılar küresi D) Su küre  
E) Yerkabuğu

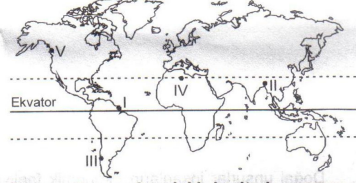
2. Atmosfer ve atmosferde meydana gelen olaylar aşağıdaki bilimlerden hangisinin konusudur?
- A) jeomorfoloji B) Jeoloji  
C) Klimatoloji D) Kartoğrafya  
E) Hidrografya

3. Aşağıdakilerden hangisi insanların doğal çevreye olan etkisine örnek olarak verilebilir?
- A) Sıcak ve nemli iklim bölgelerinde yerleşmelerin yükseklerde kurulması  
B) Karadeniz'de yaşayan insanların evlerini daha çok ahşaptan yapması  
C) İç Anadolu Bölgesi'nde toplu yerleşmelerin yaygın olması  
D) Otlak alanlarının tarım alanlarına dönüştürülmesi  
E) Deprem sonrası meydana gelen tsunaminin can ve mal kayıplarına neden olması

4. I. Bitki topluluklarının dağılımı  
II. Okyanus akıntılarının etkisi  
III. Kıvrımlı dağların oluşumu  
IV. Gel-git olaylarının etkisi  
Yukarıdakilerden hangisi veya hangileri biyocoğrafyanın ilgilendiği konulardan değildir?

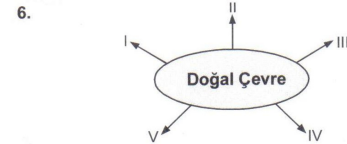
- A) I ve II B) Yalnız II C) Yalnız III  
D) III ve IV E) I ve IV

5. Yıllık yağış miktarının fazla olduğu ve gür bitki örtüsüne sahip olan alanlardaki kırsal yerleşmelerde ahşap konutlar yaygındır.



Buna göre, yukarıdaki haritada numaralandırılmış alanlardan hangisinde ahşap konutların yaygın olması beklenmez?

- A) I B) II C) III D) IV E) V



Yukarıda verilen kavram haritasında numaralandırılmış yerlere aşağıdakilerden hangisi getirilmez?

- A) Sıcaklık B) Yağış C) Dağ  
D) Uzak E) Ova

## Doğa ve İnsan

7. Aşağıdakilerden hangisi dört temel unsurdan birisi olan hidrosfere ait unsurlar içinde yer almaz?
- A) Okyanuslar B) Göller  
C) Akarsular D) Denizler  
E) Yerkabuğu

8. Aşağıdakilerden hangisi insanın doğal çevre üzerindeki etkilerine örnek gösterilemez?
- A) Ozon tabakasının zarar görmesi  
B) Meraların tahrip edilmesiyle erozyonun artması  
C) Deniz suyunun atıklarla kirlenmesi  
D) Barajlar yapılarak sel sularının kontrol altına alınmaya çalışılması  
E) Ekvatorda insanların ancak yükseklerde yerleşebilmesi

9. Doğal unsurlar insanların ekonomik faaliyetlerini yakından etkiler.  
Buna göre, yerçekilerinin sade olduğu alçak bir bölgede aşağıdakilerden hangisinin gelişmesi beklenemez?
- A) Seraçılık B) Yayılacılık  
C) Tarım D) Ahır hayvancılığı  
E) Sanayi

10. Aşağıdakilerden hangisi toprak bilimidir?
- A) Pedoloji B) Jeodezi  
C) Hidroloji D) Ekoloji  
E) Botanik

11. Aşağıdakilerden hangisi coğrafya biliminin dağılıprensibi ile ilgilidir?

- A) Engebeli yerlerde akarsuların enerji potansiyeli yüksektir.  
B) Muson Asyası'nda en yağışlı mevsim yazdır.  
C) Çöllerde günlük sıcaklık farkı fazladır.  
D) Maki bitki örtüsü 30°-40° enlemleri arasında görülür.  
E) Dünyanın en kalabalık ülkesi Çin'dir.

12. İnsanların beslenmesine, giyinmesine ve barınma şekillerine baktığımızda, yeryüzünün değişik yerlerinde çok büyük farklılıklar olduğu görülür.

Bu durumun temel nedeni aşağıdakilerden hangisidir?

- A) Ekvatora yakınlık  
B) Doğal çevre özellikleri  
C) Yükselti  
D) Toprak türü  
E) Kültürel özellikler

13. Bitkilerin ve hayvanların yaşamlarını sürdürdüğü doğal ortam aşağıdakilerden hangisidir?

- A) Litosfer B) Biyom  
C) Hidrosfer D) Biosfer  
E) Atmosfer

14. - Konutlar  
- Toprak  
- Hava  
- Deniz  
- Ticaret

Yukarıdakilerden kaç tanesi doğal unsurlardan değildir?

- A) 5 B) 4 C) 3 D) 2 E) 1