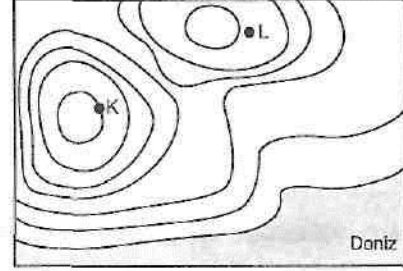


1.

Yukarıdaki haritada gösterilen numaralandırılmış doğrultulardan hangisinin gerçek uzunluğu ile kuş uçuşu arasındaki fark en fazladır?

- A) I B) II C) III D) IV E) V

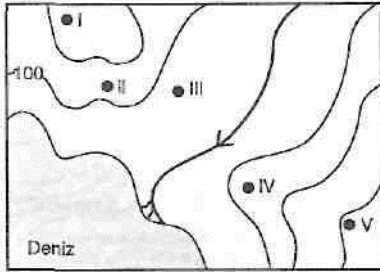
250



4.

Yukarıdaki izohips haritasında K noktasının yükseltisi 300 metre olduğuna göre, L noktası hangi yükseltiler arasındadır?

- A) 0-50 B) 50-100 C) 100-150
D) 150-200 E) 200-



2.

Yukarıdaki izohips haritasında numaralandırılan yerlerden hangilerinin yükseltileri birbirine en yakındır?

- A) I ve II B) II ve III C) II ve IV
D) III ve IV E) IV ve V

3. İzohips eğrileri arasındaki uzaklık yer şekilleri eğimine göre değişir.

Buna göre;

- I. delta ovası,
II. dik yamaç,
III. plato yüzeyi

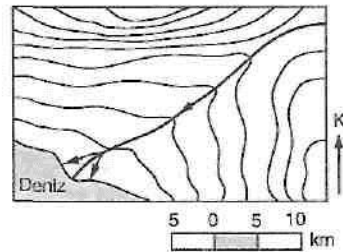
yer şekillerinden hangilerinde izohipsler seyrek aralıklarla çizilir?

- A) Yalnız I B) Yalnız II C) Yalnız III
D) I ve III E) I, II ve III

5. Bir topografya haritasının çiziminde, aşağıdaki izohips aralıklarından hangisi seçilirse yer yüzü şekilleri daha ayrıntılı gösterilir?

- A) 20 B) 50 C) 75 D) 150 E) 400

6. Aşağıda, bir yörenin izohips haritası gösterilmiştir.



Haritaya göre, aşağıdakilerden hangisi söylenemez?

- A) Deniz kıyısında delta ovası oluşmuştur.
B) Akarsuyun uzunluğu 30 km'den fazladır.
C) Yörenin güneyinin ortalama yüksekliği kuzeyinden azdır.
D) Akarsu vadisi kuzeydoğu güneybatı yönünde uzanmaktadır.
E) İki izohips eğrisi arasındaki yükselti farkı 500 metreden fazladır.