
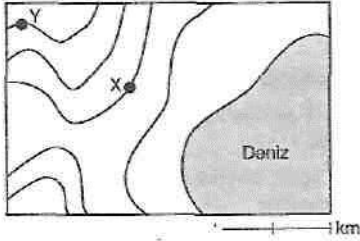


6.



Yukarıdaki izohips haritasıyla ilgili aşağıda verilenlerden hangisi yanlıştır?

- A) İki tane boyun vardır.
 B) Kuzeybatı tarafında çanak bulunur.
 C) Genel olarak doğu - batı yönlü vadi uzanır.
 D) En yüksek yer güneybatıdaki tepede bulunur.
 E) En dik yamaçlar güneydoğudaki tepede görülür.

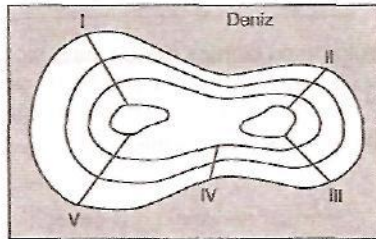


7.

Yukarıdaki haritada verilen Y noktasının yüksekliği 200 metre ise X ile Y noktaları arasındaki eğim yüzde (%) kaçtır?

- A) 2,5 B) 5 C) 7,5 D) 10 E) 12

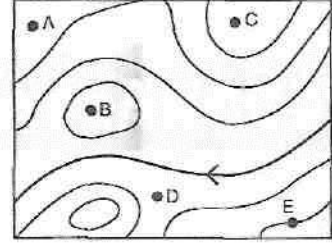
8.



Yukarıdaki izohips haritasında numaralandırılan doğrulardan hangisinin bulunduğu kıyda kıta sahanlığı daha dardır?

- A) I B) II C) III D) IV E) V

9.



Yukarıdaki izohips haritasında verilen noktaların yükseltilerinin büyükten küçüğe doğru sıralanışı aşağıdakilerden hangisi gibidir?

- A) C > B > E > D > A
 B) C > A > E > B > D
 C) A > B > C > D > E
 D) E > D > C > B > A
 E) B > A > D > C > E

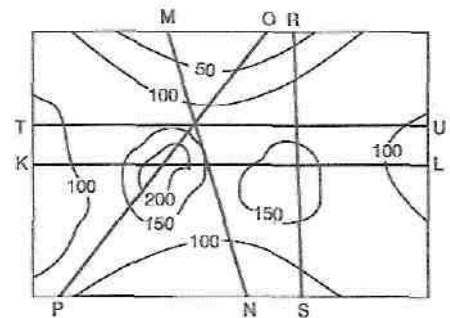
10. İzohips eğrilerine ait yükselti değerlerinin verilmediği bir topografya haritasında, aşağıdaki yer şekillerinden hangisinin yükseltisi kesin olarak bilinebilir?

- A) Vadi B) Çorak C) Kıyı çizgisi
 D) Boyun E) Sirt

11. Haritalarda yer şekillerini göstermede kullanılan aşağıdaki yöntemlerden hangisi yer şekillerini gerçeğe en yakın gösterir?

- A) İzohips B) Kabartma C) Renklendirme
 D) Gölgeleme E) Tarama

12.



Yukarıdaki izohips haritasında verilen doğruların hangisinde yükselti farkı en fazladır?

- A) K - L B) M - N C) O - P
 D) R - S E) T - U